

GEOGRAFÍA
NIVEL SUPERIOR Y NIVEL MEDIO
PRUEBA 2 – CUADERNILLO DE CONSULTA

Viernes 14 de noviembre de 2003 (mañana)

INSTRUCCIONES PARA LOS ALUMNOS









- No abra este cuadernillo de consulta hasta que se lo autoricen.
- Utilice la información del cuadernillo en relación con la prueba 2.

C11. Mapas topográficos

El extracto del mapa (escala 1:50 000) y la fotografía aérea muestran una zona de terreno accidentado y un litoral muy recortado al noroeste de Irlanda.



© Ordnance Survey Ireland and Government of Ireland.

-  Estacionamiento de caravanas (temporal)
-  Hostal An Oige/Independiente
-  Aparcamiento
-  Zona de picnic
-  Teléfono público
-  Cámping
-  Información turística (horario normal)
-  Centro de información turística (horario restringido)



ESCALA 1 : 50 000

1 KILOMETROS 0 1 2 3 4 5 6 7 8 9 10 KILOMETROS

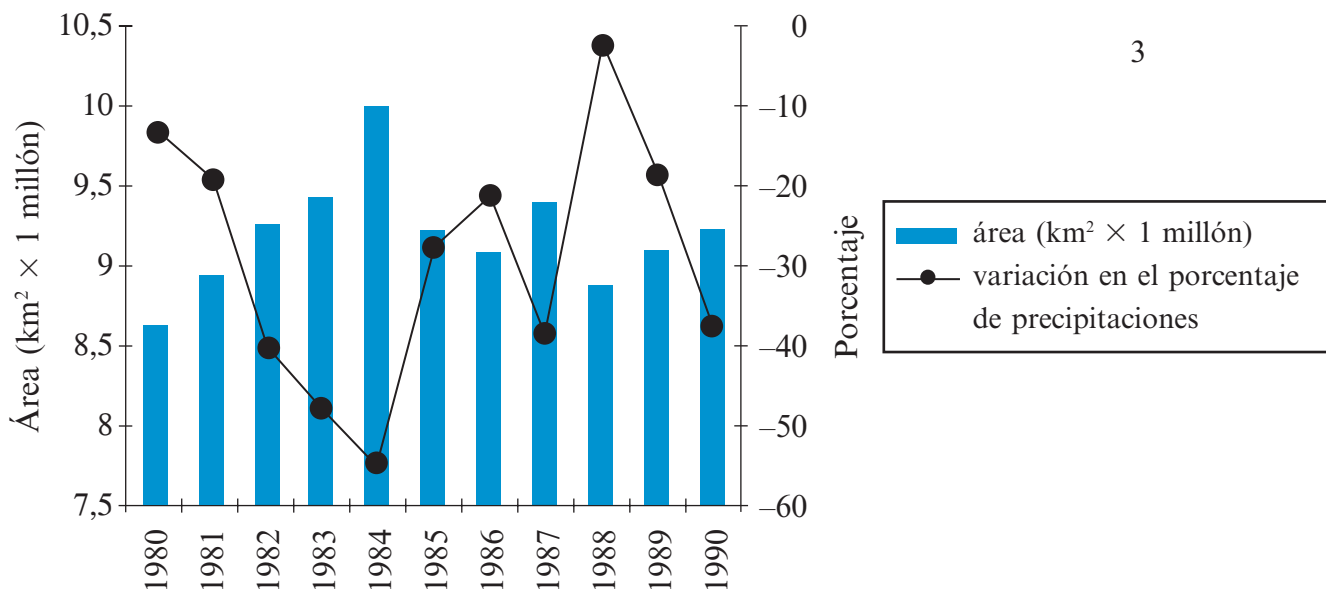
1 MILLAS INGLASAS 0 1 2 3 4 5 6 MILLAS INGLASAS

- Punto de observación
- Reserva natural
- National Trust
- Autopista (intersección)
- Carretera nacional principal
- Carretera nacional secundaria
- Carretera de dos carriles
- Carretera regional
- Carretera local
- Otras carreteras
- Pista
- Zona urbanizada
- Aeropuerto
- Aeródromo
- Oficina de correos
- Policía
- Central de energía (hidráulica)
- Central de energía (fósil)
- Línea de alta tensión
- Poste de TV
- Iglesia o capilla
- Catedral
- Punto de triangulación
- Intersección de cuadrícula
- Campo de golf o enlaces
- Senderos; sin señalizar
- Ferry (vehículo)
- Ferry (pasajero)
- Vías férreas
- Línea industrial
- Túnel
- Paso a nivel
- Estación
- Frontera internacional
- Frontera de condado
- Parque nacional
- Parque forestal
- Propiedad de Departamento de Defensa
- Plantación de coníferas
- Bosque natural
- Bosque mixto
- Antigüedades con nombre
- Cercamiento (p.ej. castro)
- Campo de batalla (con fecha)
- Curva de nivel 10m
- Curva de nivel 50m
- Cota
- Lago
- Canal, canal (seco)
- Rito o arroyo
- Actividades en barca
- Faro en uso/abandonado
- Señal de pelear
- Señal de bajamar
- Playa

A3. Los medios áridos y su gestión

(b) Pregunta estructurada

El diagrama siguiente muestra los cambios ocurridos en la zona del Sahara (en km²) desde 1980 a 1990 y la variación en el porcentaje de precipitaciones respecto a la media en ese mismo período.

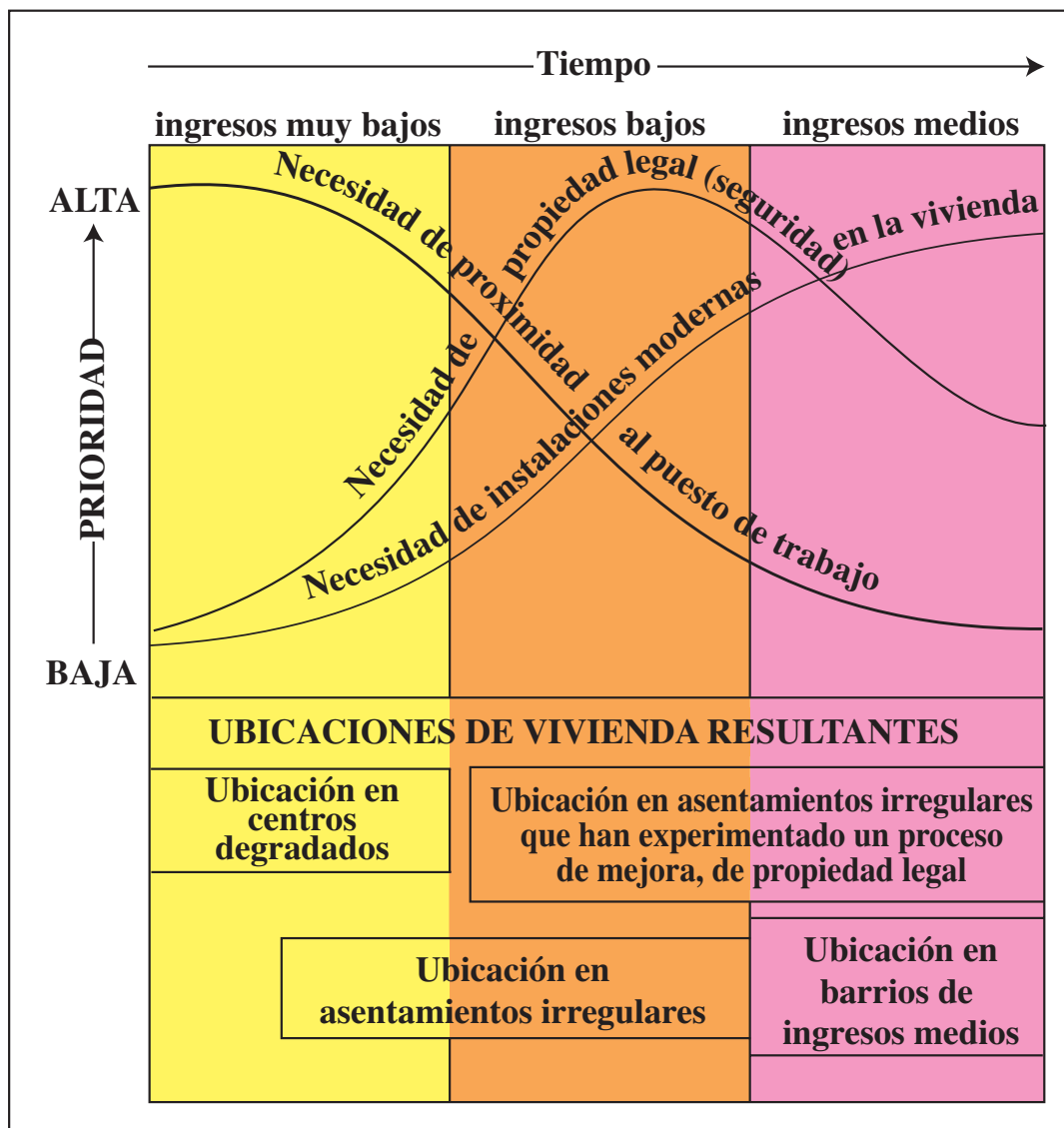


[Fuente: <http://ag.arizona.edu/~1milich/bound.html>]

B8. Asentamientos humanos

(b) Pregunta estructurada

El diagrama siguiente muestra un modelo de prioridades de vivienda para familias de bajo ingreso en países menos desarrollados económicamente.



[Fuente: adaptado del modelo de Turner en *Study and Revise* (2000)]